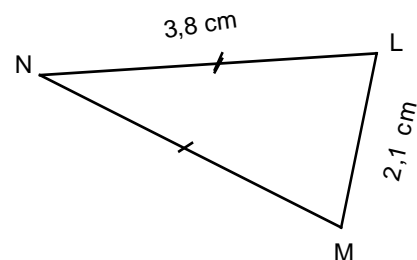
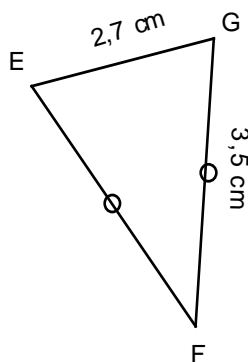
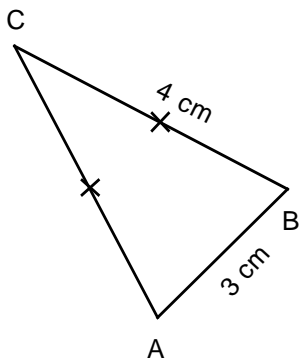


**Entraînement 1** : Construis les triangles ci-dessous en utilisant le compas.

Le triangle ..... est isocèle en ..... Le triangle ..... est isocèle en ..... Le triangle ..... est isocèle en .....



Figures :

**Entraînement 2** : Construis les triangles ci-dessous en utilisant le compas.

Figure :

