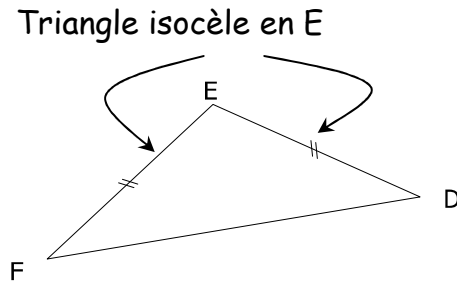
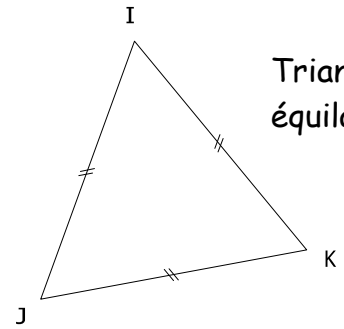


Triangle rectangle en A



Triangle isocèle en E



Triangle équilatéral

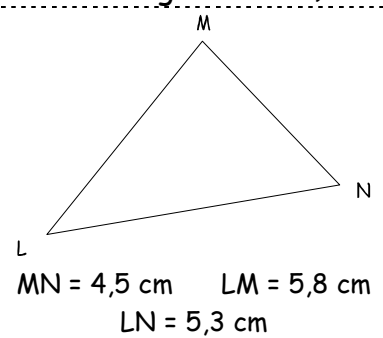
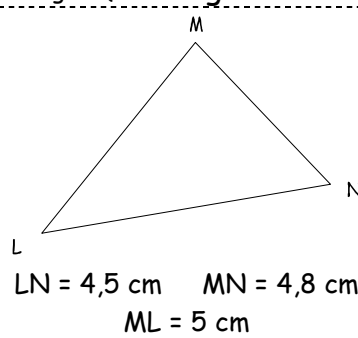
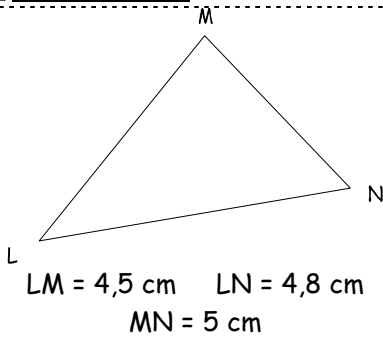
Entraînement 1 Complète les cadres avec les bons mots

Je suis un triangle qui a deux côtés de même mesure, je suis un triangle :

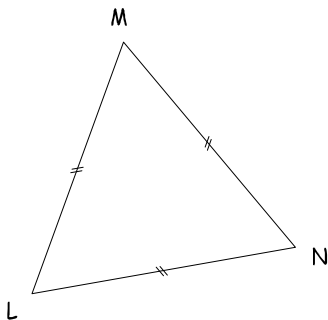
Je suis un triangle qui a un angle droit, je suis un triangle :

Je suis un triangle qui a trois côtés de même mesure, je suis un triangle :

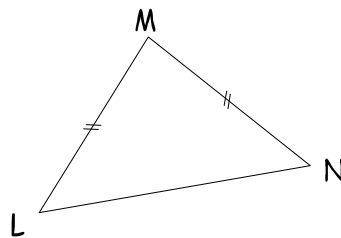
Entraînement 2 Ecris les mesures sur les triangles (Les figures ne sont pas en vraies grandeurs)



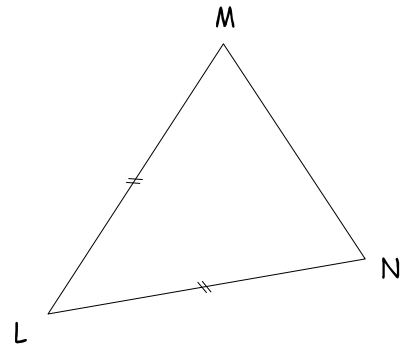
Entraînement 3 Complète les pointillés (Les figures ne sont pas en vraies grandeurs)



LMN est un triangle
LM = 6 cm LN = cm
MN = cm



LMN est un triangle en M
LM = 6 cm LN = 5 cm
MN = cm



LMN est un triangle en
LM = 4,5 cm MN = 4 cm
LN = cm

AB = 5 cm CD = 4 cm EF = 3 cm

BC = cm AC = cm CE = cm

DE = cm DF = cm

Le triangle ABC est un triangle

Le triangle BDC est un triangle en

Le triangle DEC est un triangle

Le triangle DFE est un triangle en

