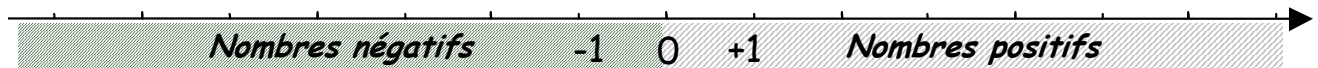
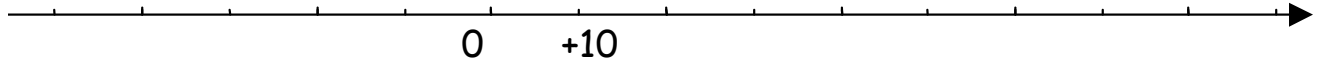
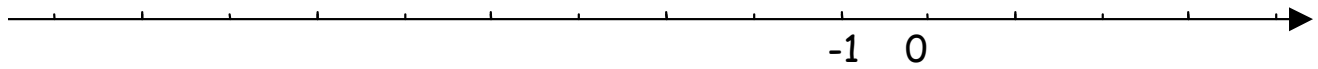


Entraînement 1 : Complète les graduations

Repasse de deux couleurs différentes les nombres positifs et les nombres négatifs

**Entraînement 2**

Dans la liste suivante, entoure tous les nombres positifs et souligne les nombres négatifs

+ 6 + 3 - 2 + 5 - 8 + 1,25 - 0,4 + 0,458
+ 2,5 - 5 + 0,005 - 4,5 + 3 + 108,5 - 3,15 0

OPPOSE D'UN NOMBRE RELATIF

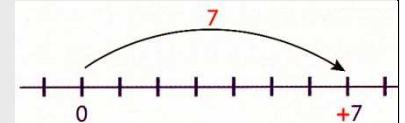
L'opposé de + 4 est - 4 L'opposé de - 3 est + 3

Entraînement 3 Complète le tableau par les nombres opposés

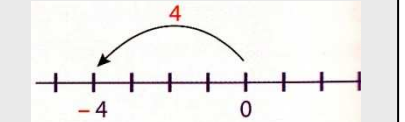
Nombre	Opposé	Distance à zéro	Nombre	Opposé	Distance à zéro
+ 3			+ 1 596		
- 1,5			+ 2,69		
+ 6			- 25,7		
- 5,6			- 1,75		
- 0,78			0		

DISTANCE A ZERO

+ 7 est un **nombre relatif**
Il est **positif**,
sa **distance à zéro** est de 7



- 4 est un **nombre relatif**
Il est **négatif**,
sa **distance à zéro** est de 4

**Entraînement 4** On donne l'axe gradué suivant :

Place dans chaque cas, les opposés des nombres suivants :

