






Entraînement 1 : Les tableaux suivants sont des tableaux de proportionnalité

| | | | | | | | |
|-----------|----|---|---|----|---|---|--|
| Tableau 1 | 2 | 3 | 4 | 5 | 7 | 1 |  \times |
| | 20 | | | 50 | | | |


| | | | | | | | |
|-----------|----|---|----|---|---|---|--|
| Tableau 2 | 2 | 3 | 4 | 5 | 8 | 1 |  \times |
| | 18 | | 36 | | | | |


| | | | | | | | |
|-----------|---|----|---|-----|----|---|--|
| Tableau 3 | 2 | 4 | 6 | 10 | 12 | 1 |  \times |
| | | 44 | | 110 | | | |


| | | | | | | | |
|-----------|----|---|----|---|-----|---|--|
| Tableau 4 | 2 | 3 | | 6 | | 1 |  \times |
| | 32 | | 64 | | 128 | | |

| | | | | | | | |
|-----------|---|---|---|----|----|---|--|
| Tableau 5 | 2 | 4 | 6 | 10 | | 1 |  \times |
| | 5 | | | 25 | 20 | | |




Entraînement 2 : Les tableaux suivants sont des tableaux de proportionnalité




| | | | | | | | |
|-----------|----|---|----|---|----|---|--|
| Tableau 6 | 2 | 3 | | 7 | | 1 |  \times |
| | 16 | | 40 | | 80 | | |




| | | | | | | | |
|-----------|---|----|----|---|----|---|--|
| Tableau 7 | 2 | 3 | | 7 | 10 | 1 |  \times |
| | | 15 | 25 | | | | |




| | | | | | | | |
|-----------|---|---|----|---|----|---|--|
| Tableau 8 | 2 | 4 | | 7 | 10 | 1 |  \times |
| | | | 42 | | 70 | | |

Entraînement 3 : Les tableaux suivants sont des tableaux de proportionnalité

| | | | | | | | |
|-----------|----|--|----|--|----|---|--|
| Tableau 9 | 2 |  \times | 4 |  \times | 5 |  \times | Ce tableau est-il un tableau de proportionnalité ? |
| | 12 | | 24 | | 30 | | |

| | | | | | | | |
|------------|----|--|----|--|----|---|--|
| Tableau 10 | 2 |  \times | 3 |  \times | 5 |  \times | Ce tableau est-il un tableau de proportionnalité ? |
| | 18 | | 21 | | 45 | | |

| | | | | | | | |
|------------|----|--|----|--|----|---|--|
| Tableau 11 | 5 |  \times | 7 |  \times | 10 |  \times | Ce tableau est-il un tableau de proportionnalité ? |
| | 15 | | 21 | | 30 | | |

| | | | | | | | |
|------------|---|--|----|--|----|---|--|
| Tableau 12 | 5 |  \times | 10 |  \times | 20 |  \times | Ce tableau est-il un tableau de proportionnalité ? |
| | 6 | | 12 | | 28 | | |

