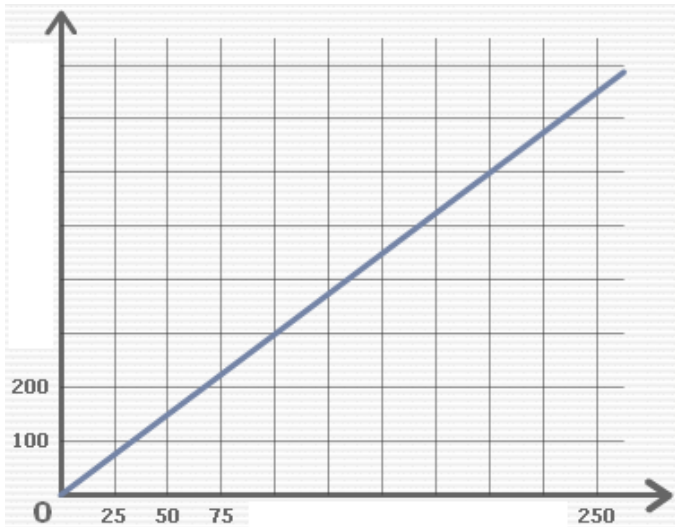


Entraînement 1

Prix payé



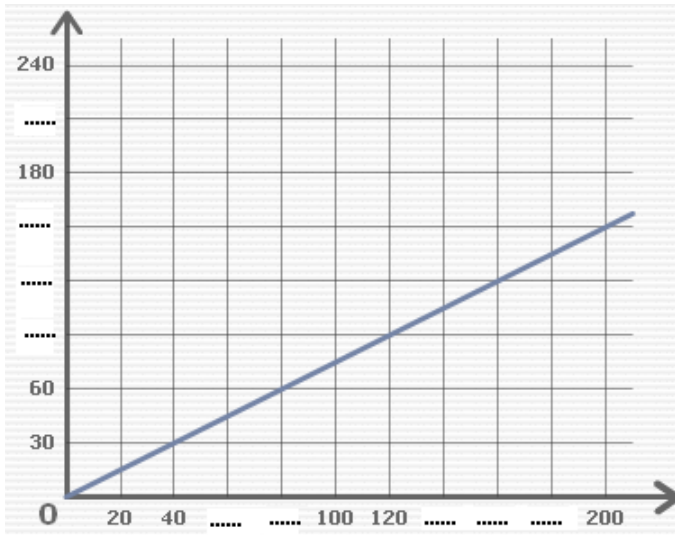
a) Complète la liste de nombres :  
 0 - 25 - 50 - 75 - ..... - ..... -  
 ..... - ..... - ..... - ..... - .....

b) Quel est le prix payé pour 100 objets ?  
 .....

c) Quel est le nombre d'objets achetés avec 600 € ?  
 .....

Nombre d'objets

Prix payé



d) Complète la liste de nombres :  
 0 - 20 - 40 - ..... - ..... - 100 - 120  
 ..... - ..... - ..... - 200 - .....

e) Complète la liste de nombres :  
 0 - 30 - 60 - ..... - ..... - .....  
 - 180 - ..... - 240

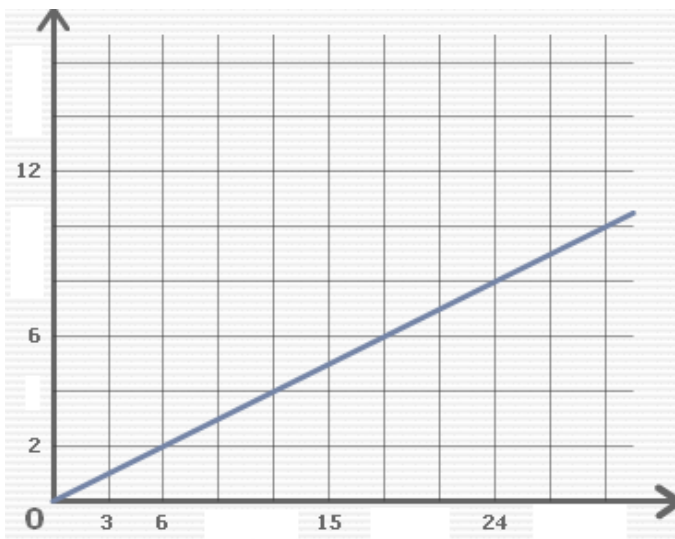
f) Quel est le prix payé pour 120 objets ? .....

g) Quel est le nombre d'objets achetés avec 60 € ? .....

h) Combien peut-on acheter d'objets avec 150 € ? .....

Nombre d'objets

Prix payé



a) Complète la liste de nombres :  
 0 - 3 - 6 - ..... - ..... - ..... - ..... - .....  
 - ..... - ..... - ..... - ..... - ..... - .....

b) Complète la liste de nombres :  
 0 - 2 - ..... - ..... - ..... - ..... - ..... -  
 ..... - ..... - ..... - ..... - ..... - .....

c) Quel est le prix payé pour 12 objets ? .....

i) Quel est le nombre d'objets achetés avec 8 € ? .....

j) Combien peut-on acheter d'objets avec 10 € ? .....

Nombre d'objets

