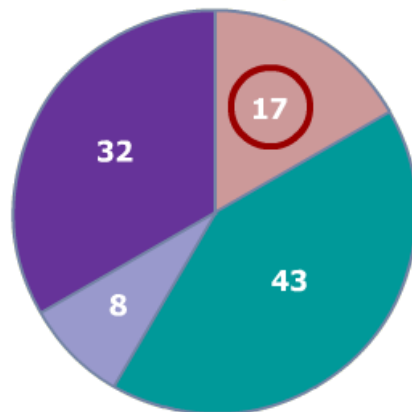


Entraînement 1

Instruments joués	Nombre d'élèves	Angles arrondi au degré près
Violon
Flûte	17	61°
Tambour
Castagnettes
Total des élèves	100	360°

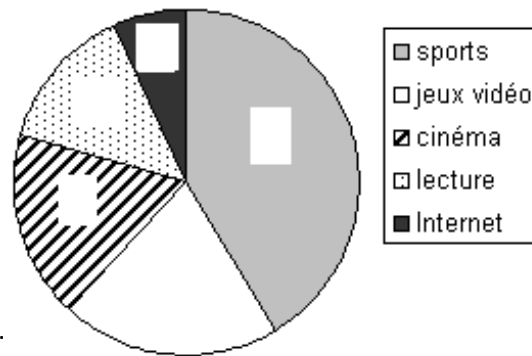
- violon
- flûte
- tambour
- castagnettes



Entraînement 2

Complète le diagramme circulaire à l'aide du tableau puis le tableau

Loisirs	Sports	Jeux vidéo	cinéma	lecture	Internet	Total
Nombre d'enfants	57	32	26	23	12
Angles	360°

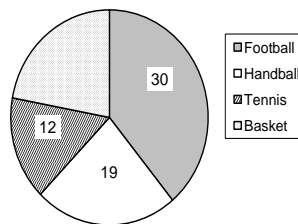


Combien d'enfants ont été interrogés ?

Entraînement 3 75 élèves ont été interrogés sur le sport qu'il pratique

Complète le tableau à l'aide du diagramme circulaire

Sports pratiqués	Tennis	Handball	Basket	Total
Nombre d'élèves	12	30	75
Angles
Pourcentage



Paul dit que le football représente la moitié des sports pratiqués. A t-il raison ?

Sarah dit que 2 personnes sur 5 pratiquent le football ? A t-elle raison ?

