

Entraînement 1 Compter en base 10

10	20	30	100
100	200	300	1000

 Entraînement 2 Compter en base 25

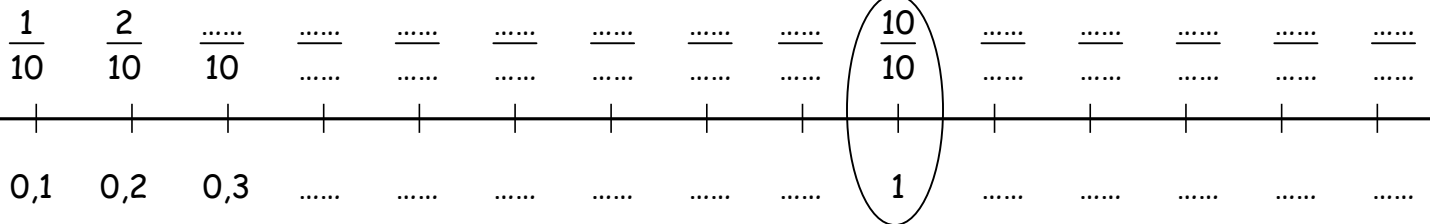
25	50	125	250
250	500	1500

 Entraînement 3 Compter en base 50

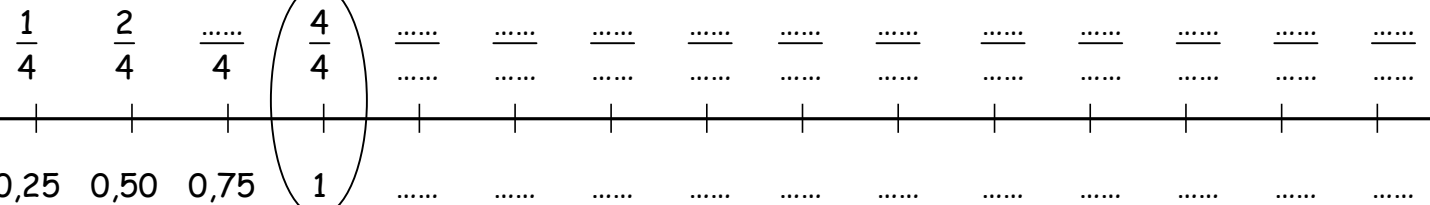
50	100	150	500
500	1000	3000

 Entraînement 4 Complète

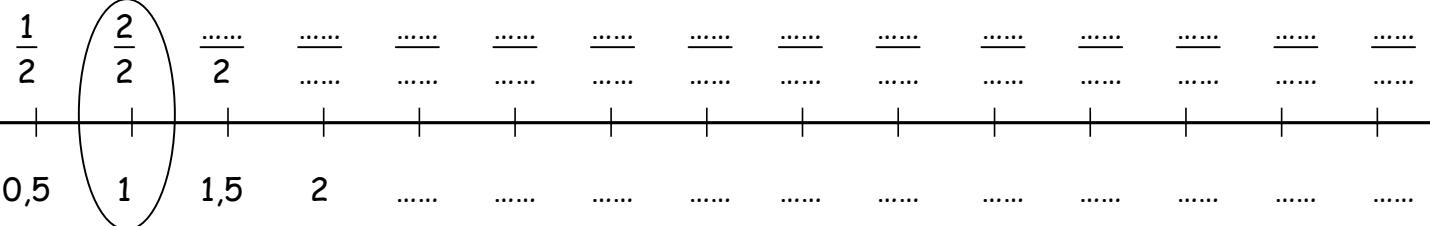
De dixième en dixième



De quart en quart



De demi en demi


 Entraînement 5 Retrouve l'écriture décimale des fractions suivantes :

$\frac{1}{10} = 0,1$	$\frac{4}{10} = \dots\dots\dots$	$\frac{5}{10} = \dots\dots\dots$	$\frac{9}{10} = \dots\dots\dots$	$\frac{10}{10} = \dots\dots\dots$	$\frac{12}{10} = \dots\dots\dots$
$\frac{1}{4} = 0,25$	$\frac{3}{4} = \dots\dots\dots$	$\frac{4}{4} = \dots\dots\dots$	$\frac{7}{4} = \dots\dots\dots$	$\frac{8}{4} = \dots\dots\dots$	$\frac{12}{4} = \dots\dots\dots$
$\frac{1}{2} = \dots\dots\dots$	$\frac{3}{2} = \dots\dots\dots$	$\frac{4}{2} = \dots\dots\dots$	$\frac{7}{2} = \dots\dots\dots$	$\frac{8}{2} = \dots\dots\dots$	$\frac{14}{2} = \dots\dots\dots$

