

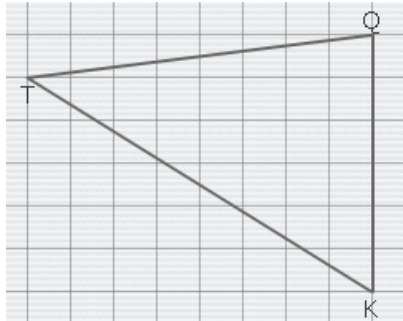
**Entraînement 1** Complète avec le bon vocabulaire

Trace la droite qui passe par le **sommet Q** et qui est **perpendiculaire** au côté opposé



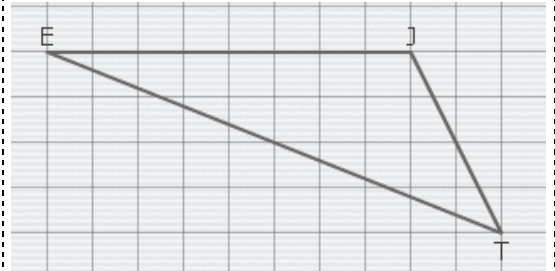
Cette droite s'appelle la **hauteur** issue du sommet **Q**

Trace la droite qui passe par le **sommet T** et qui est **perpendiculaire** au côté opposé



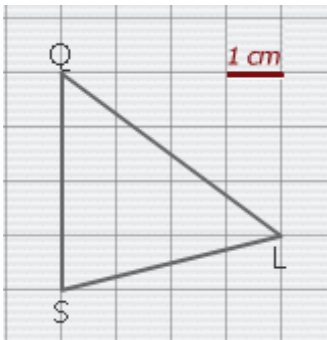
Cette droite s'appelle la **hauteur** issue du sommet .....

Trace la droite qui passe par le **sommet T** et qui est **perpendiculaire** au côté opposé

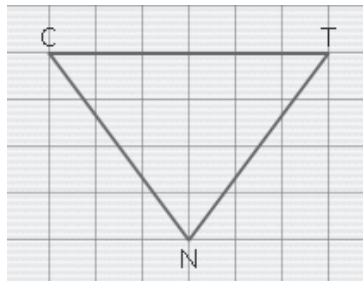


Cette droite s'appelle la ..... issue du sommet .....

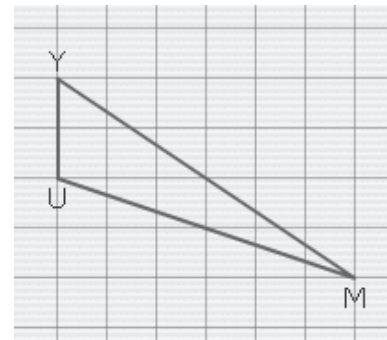
Trace la **hauteur** issue du sommet **L**



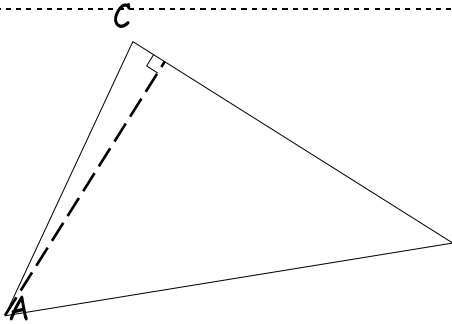
Trace la **hauteur** issue du sommet **N**



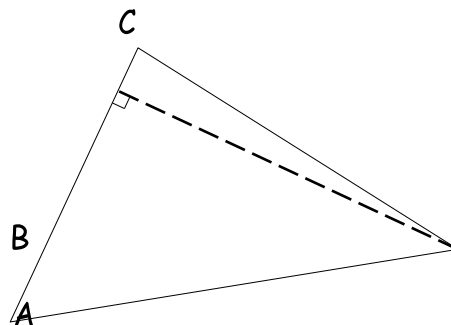
Trace la **hauteur** issue du sommet **M**



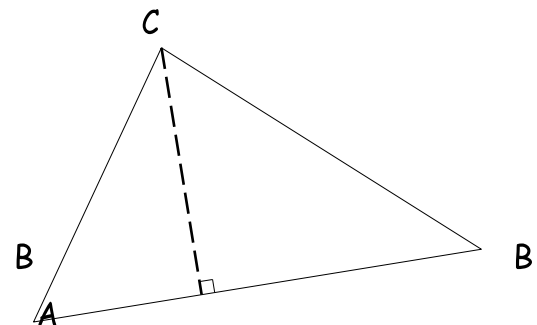
**Entraînement 2** Complète avec le bon vocabulaire



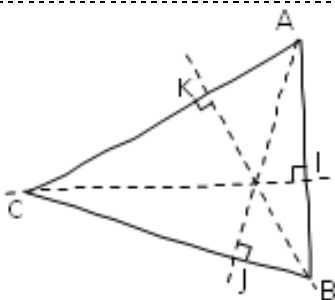
Hauteur issue de **A**  
La base est le côté : **[BC]**



Hauteur issue de .....  
La base est le côté : .....



Hauteur issue de .....  
La base est le côté : .....



La droite (BK) est la hauteur du triangle ABC issue du sommet ....., la base est : .....

La droite (AJ) est la hauteur du triangle ABC issue du sommet ....., la base est : .....

La droite (CI) est la hauteur du triangle ABC issue du sommet ....., la base est : .....

