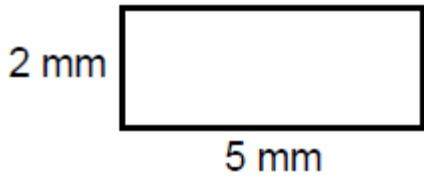



Entraînement 1 : Calcule les périmètres et aires des figures suivantes

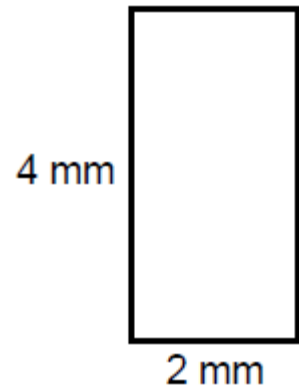
Périmètre =

Aire =



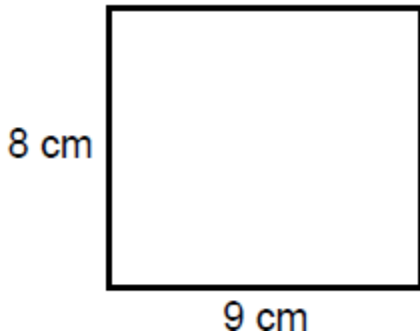
Périmètre =

Aire =



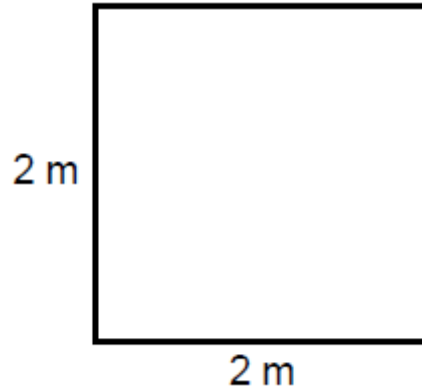
Périmètre =

Aire =

Entraînement 2 : Calcule les périmètres et aires des figures suivantes

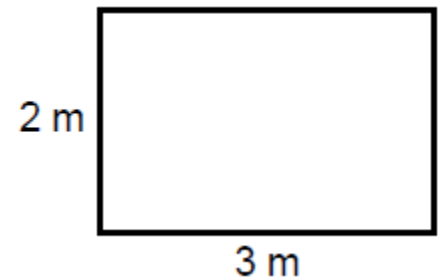
Périmètre =

Aire =



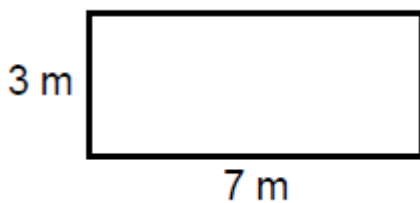
Périmètre =

Aire =



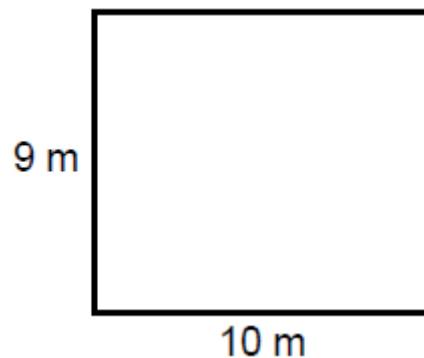
Périmètre =

Aire =

Entraînement 3 : Calcule les périmètres et aires des figures suivantes

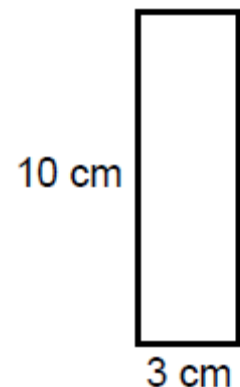
Périmètre =

Aire =



Périmètre =

Aire =



Périmètre =

Aire =

