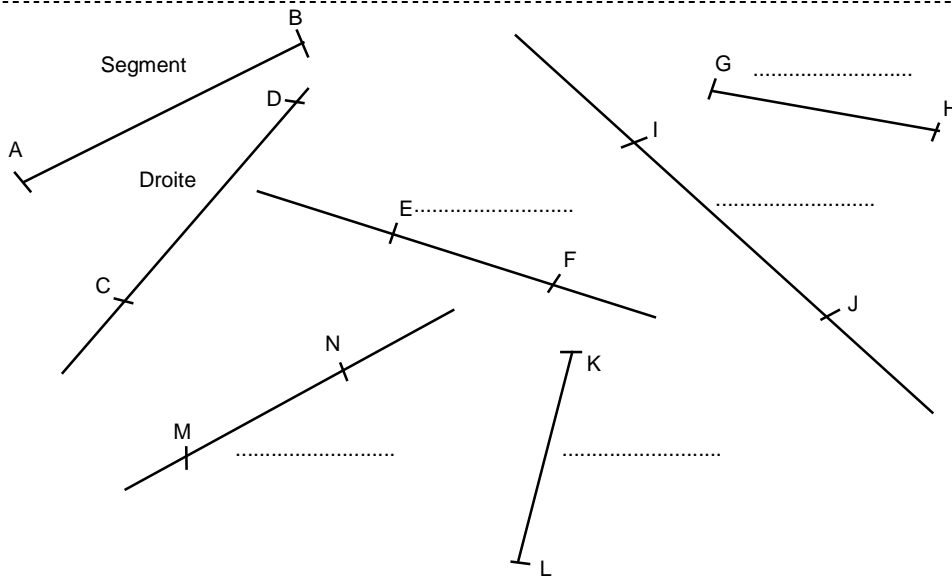
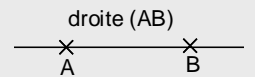


**Entraînement 1** Complète avec la bonne étiquette




**DROITE**



Une droite est une ligne tracée à la règle qui n'a pas d'extrémités

**SEGMENT**



Un segment est une ligne tracée à la règle qui a 2 extrémités.

**Entraînement 2**

|   |  |  |
|---|--|--|
| <p>Trace la droite passant par les points A et B.</p> <p>Nom : la droite ( AB )</p> | <p>Trace le segment d'extrémités les points A et B.</p> <p>Nom : le segment [AB]</p> | <p>Trace la droite passant par les points A et C.</p> <p>Nom : la droite .....</p> |
| <p>Trace le segment d'extrémités les points B et C</p> <p>Nom :</p>                 | <p>Trace la droite passant par les points B et C.</p> <p>Nom :</p>                   | <p>Trace le segment d'extrémités les points A et C.</p> <p>Nom :</p>               |

**NOTATION MATHÉMATIQUE**

La droite qui passe par les points A et B se note : ( AB )

Le segment d'extrémités les points A et B se note : [ AB ]

**Entraînement 3** Trace en respectant les consignes

- Trace la droite ( AI ).
- Trace le segment [ CE ].
- Trace la droite ( DG ).
- Trace le segment [ FB ].
- Trace la droite ( AB ).
- Trace le segment [ HB ].
- Les points D, C et H sont-ils alignés ?

