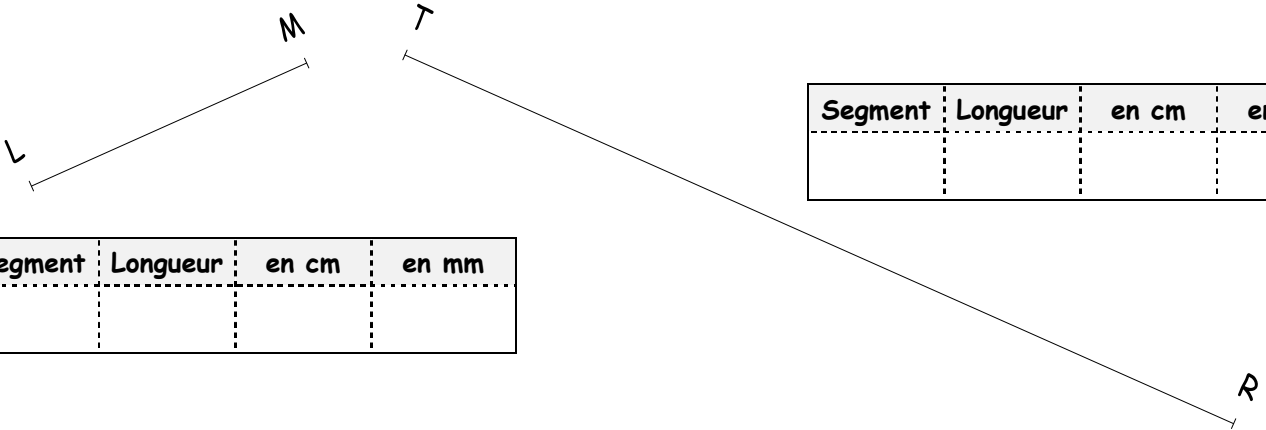


Entraînement 1 Mesure à l'aide de ta règle les segments suivants :



Segment	Longueur	en cm	en mm
[AB]	AB =	5 cm	= 50 mm

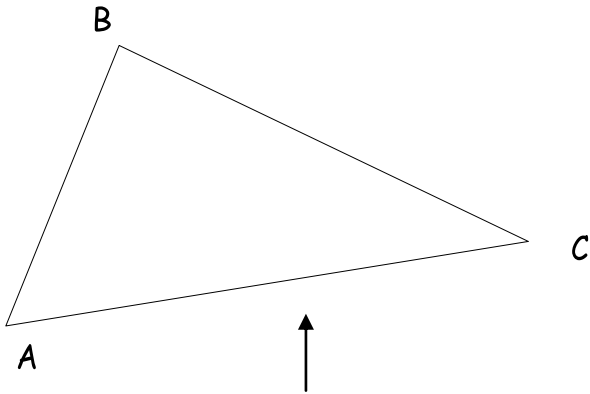
Segment	Longueur	en cm	en mm
	CD = cm	= mm



Segment	Longueur	en cm	en mm

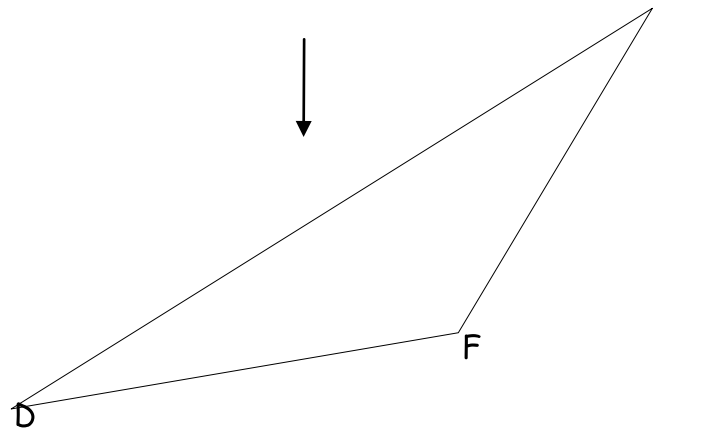
Segment	Longueur	en cm	en mm

Entraînement 2 Avec ta règle, mesure et complète les tableaux



Segment	Longueur	en cm	en mm
	DE		
[DF]			

Segment	Longueur	en cm	en mm
[AB]	AB		
[AC]			
	BC		



Segment	Longueur	en cm	en mm
[RS]			
[ST]			
	TU		

