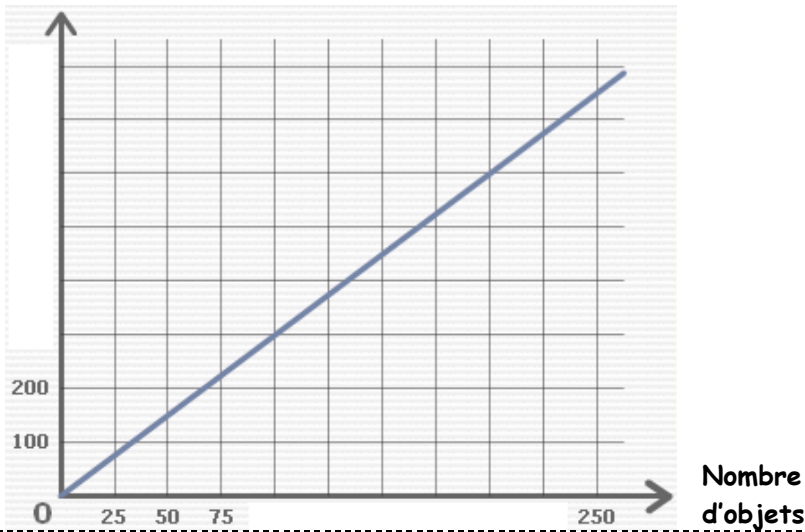


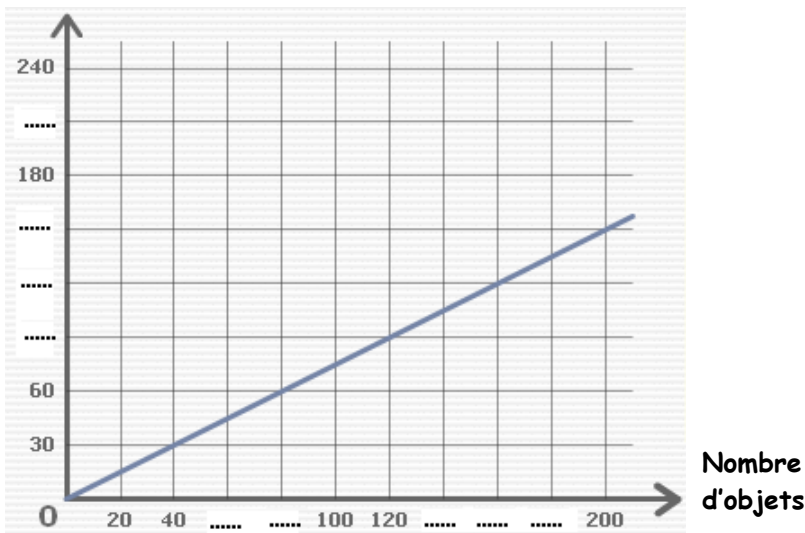
Entraînement 1

Prix payé



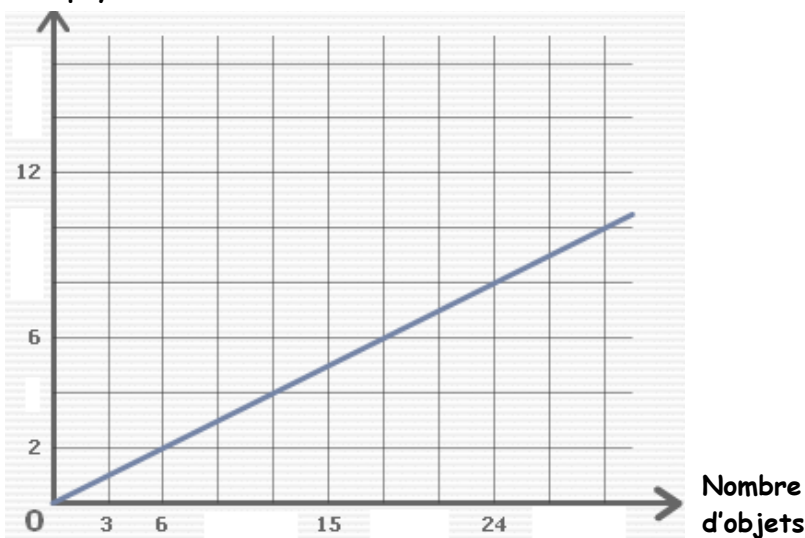
- a) Complète la liste de nombres :
0 - 25 - 50 - 75 - - -
..... - - - -
- b) Quel est le prix payé pour 100 objets ?
.....
- c) Quel est le nombre d'objets achetés avec 600 € ?
.....

Prix payé



- d) Complète la liste de nombres :
0 - 20 - 40 - - - 100 - 120
..... - - - 200 -
- e) Complète la liste de nombres :
0 - 30 - 60 - - -
- 180 - - 240
- f) Quel est le prix payé pour 120 objets ?
- g) Quel est le nombre d'objets achetés avec 60 € ?
- h) Combien peut-on acheter d'objets avec 150 € ?

Prix payé



- a) Complète la liste de nombres :
0 - 3 - 6 - - - - -
- - - - - -
- b) Complète la liste de nombres :
0 - 2 - - - - - -
..... - - - - -
- c) Quel est le prix payé pour 12 objets ?
.....
- i) Quel est le nombre d'objets achetés avec 8 € ?
- j) Combien peut-on acheter d'objets avec 10 € ?

