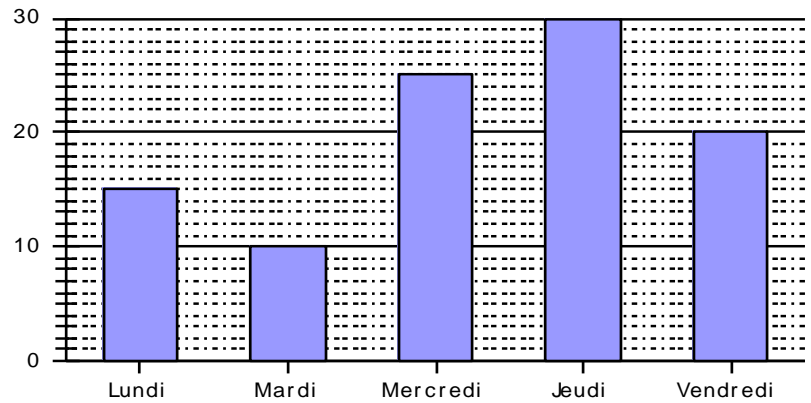


**Entraînement 1** complète le tableau à l'aide du graphique

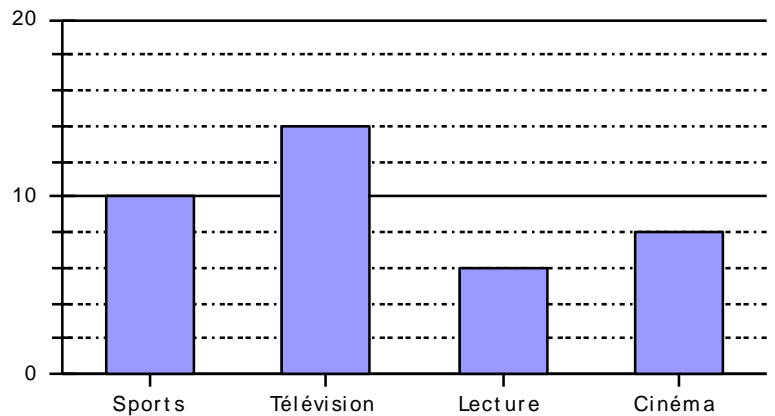
| Jours de la semaine | Nombre d'absences |
|---------------------|-------------------|
| Lundi               |                   |
| .....               |                   |
| .....               |                   |
| .....               |                   |
| <b>Total</b>        |                   |



- a) Quel est le jour où il y a le plus d'absents ? ..... Le moins d'absents ? .....
- b) Quels sont les jours où les absences ont été supérieures à 21 ? .....

**Entraînement 2** complète le graphique à l'aide du tableau

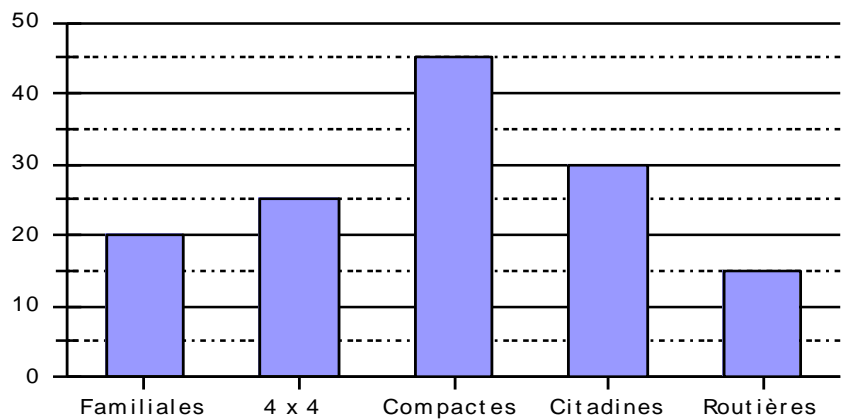
| loisir préféré | Nombre de jeunes |
|----------------|------------------|
| Sports         |                  |
| Télévision     |                  |
| .....          |                  |
| .....          |                  |
| <b>Total</b>   |                  |



- a) Quel est le loisir préféré de ces jeunes ? .....
- b) Combien de jeunes ont été interrogés ? .....

**Entraînement 3** complète le tableau à l'aide du graphique

| Catégorie de voitures | Nombre de voitures |
|-----------------------|--------------------|
| Familiales            |                    |
| 4 x 4                 |                    |
| .....                 |                    |
| .....                 |                    |
| .....                 |                    |



- a) Quelle est la catégorie de voitures la plus vendue ? .....
- b) Combien de voitures ont été vendues ? .....

