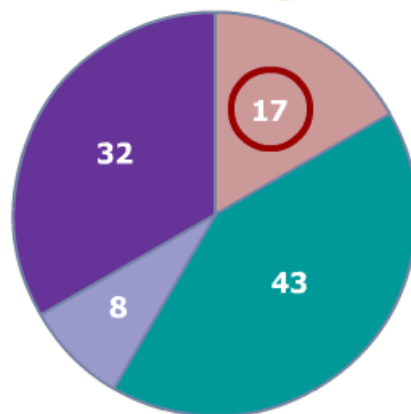


Entraînement 1

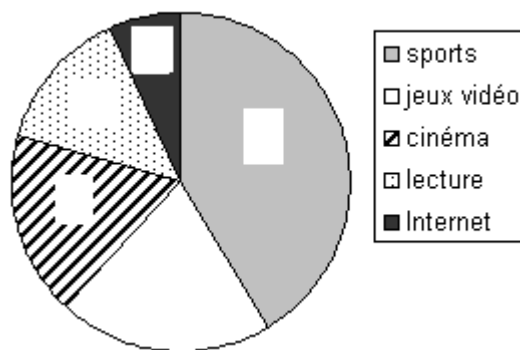
Instruments joués	Nombre d'élèves
Violon	
Flûte	17
Tambour	
Castagnettes	
Total des élèves	



Entraînement 2

Complète le diagramme circulaire à l'aide du tableau

Loisirs	Sports	Jeux vidéo	cinéma	lecture	Internet
Nombre d'enfants	57	32	26	23	12

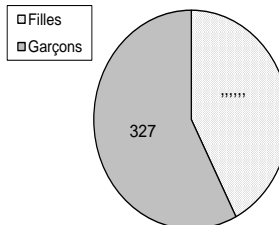


Combien d'enfants ont été interrogés ?

Entraînement 3

Dans un collège, il y a **568 élèves**.

- Y a-t-il plus de filles ou de garçons dans ce collège ?
- Quel est le nombre de garçons ?
- Quel est le nombre de filles ?



Entraînement 4

75 élèves ont été interrogés sur le sport qu'il pratique.

Complète le tableau à l'aide du diagramme circulaire

Sports	Tennis	Handball	Basket	Total
Nombre d'élèves	12		30		75

