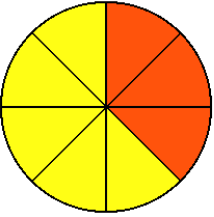
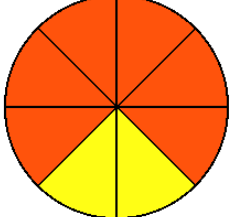
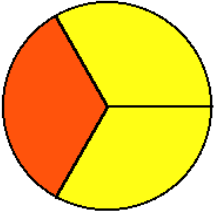
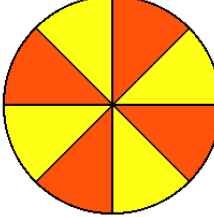
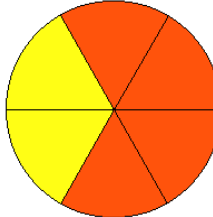




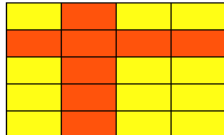
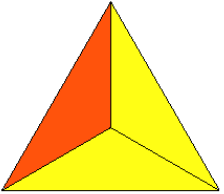
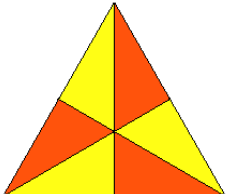
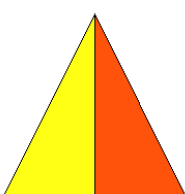
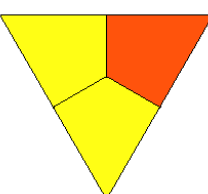
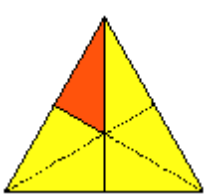

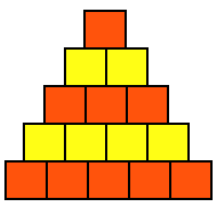
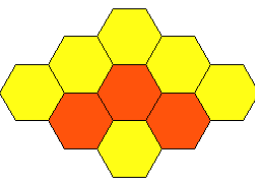
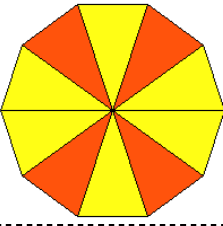
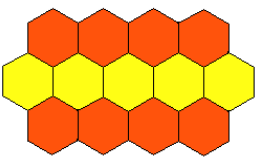


Entraînement 1 :

				
Nombre total de parts : 8	Nombre total de parts :	Nombre total de parts :	Nombre total de parts :	Nombre total de parts :
Nombre de parts foncées : 3	Nombre de parts foncées :	Nombre de parts foncées :	Nombre de parts foncées :	Nombre de parts foncées :
Fraction : $\frac{3}{8}$	Fraction : $\frac{.....}{.....}$	Fraction : $\frac{.....}{.....}$	Fraction : $\frac{.....}{.....}$	Fraction : $\frac{.....}{.....}$
				
Nombre total de parts : 12	Nombre total de parts :	Nombre total de parts :	Nombre total de parts :	Nombre total de parts :
Nombre de parts foncées : 5	Nombre de parts foncées :	Nombre de parts foncées :	Nombre de parts foncées :	Nombre de parts foncées :
Fraction : $\frac{5}{12}$	Fraction : $\frac{.....}{.....}$	Fraction : $\frac{.....}{.....}$	Fraction : $\frac{.....}{.....}$	Fraction : $\frac{.....}{.....}$
				
Nombre total de parts :	Nombre total de parts :	Nombre total de parts :	Nombre total de parts :	Nombre total de parts :
Nombre de parts foncées :	Nombre de parts foncées :	Nombre de parts foncées :	Nombre de parts foncées :	Nombre de parts foncées :
Fraction : $\frac{.....}{.....}$	Fraction : $\frac{.....}{.....}$	Fraction : $\frac{.....}{.....}$	Fraction : $\frac{.....}{.....}$	Fraction : $\frac{.....}{.....}$
				
Fraction :	Fraction :	Fraction :	Fraction :	Fraction :

