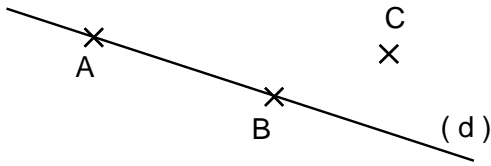
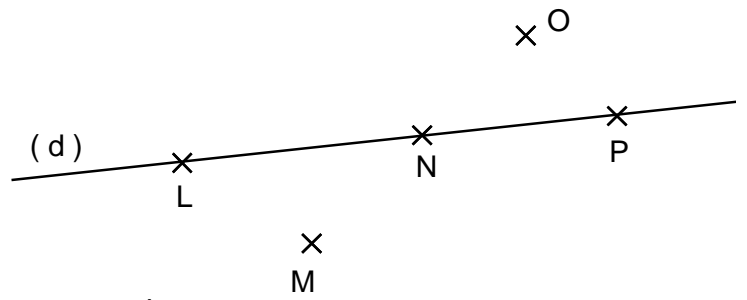


**Entraînement 1**

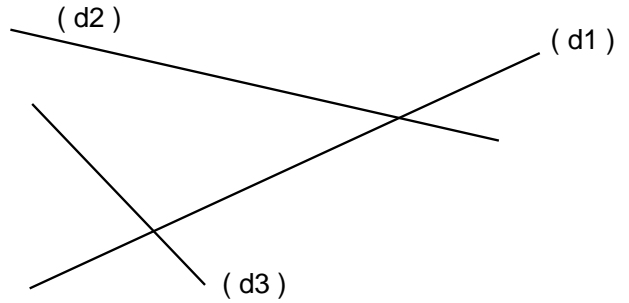
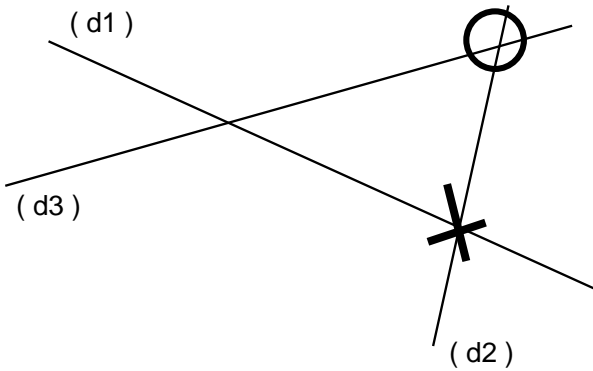


Entoure les différents noms possibles de la droite (d) :  
 ( AB ) ( AC ) ( ABC ) ( BA ) ( BC )



Entoure les différents noms possibles de la droite (d) :  
 ( LN ) ( NL ) ( LNP ) ( LM ) ( NP ) ( ON ) ( PL )

**Entraînement 2** Marque avec une croix **X** le point d'intersection des droites (d1) et (d2)  
 avec un rond **O** le point d'intersection des droites ((d2) et (d3))



**Entraînement 3** Place le point **M** à l'intersection des droites (d1) et (d2)  
 et le point **N** à l'intersection des droites (d2) et (d3)

