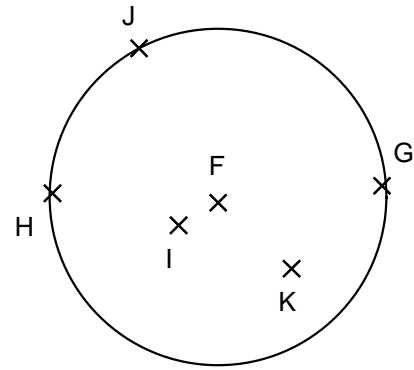
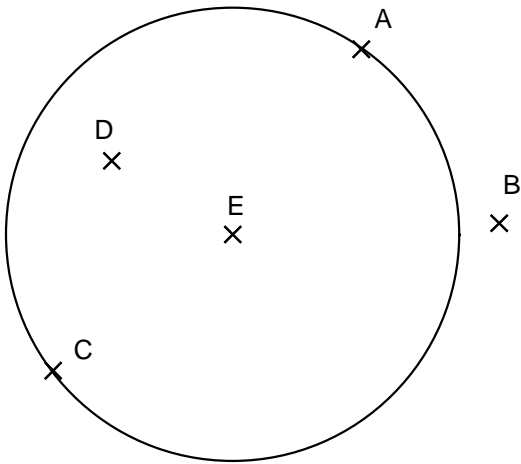


Entraînement 1



- Donne le nom du **centre** du *cercle*. Le point .....
- Ce *cercle* passe par les points ..... et .....

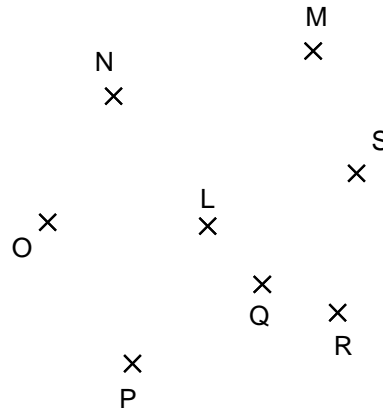
- Donne le nom du **centre** du *cercle*. Le point .....
- Ce *cercle* passe par les points ..... et .....

Entraînement 2

Trace le *cercle* de **centre** T et passant par le point U



Trace le *cercle* de **centre** L et passant par le point N



Entraînement 3

- Trace le *cercle* de **centre** A et passant par le point U.
- Trace le *cercle* de **centre** T et passant par le point R.

